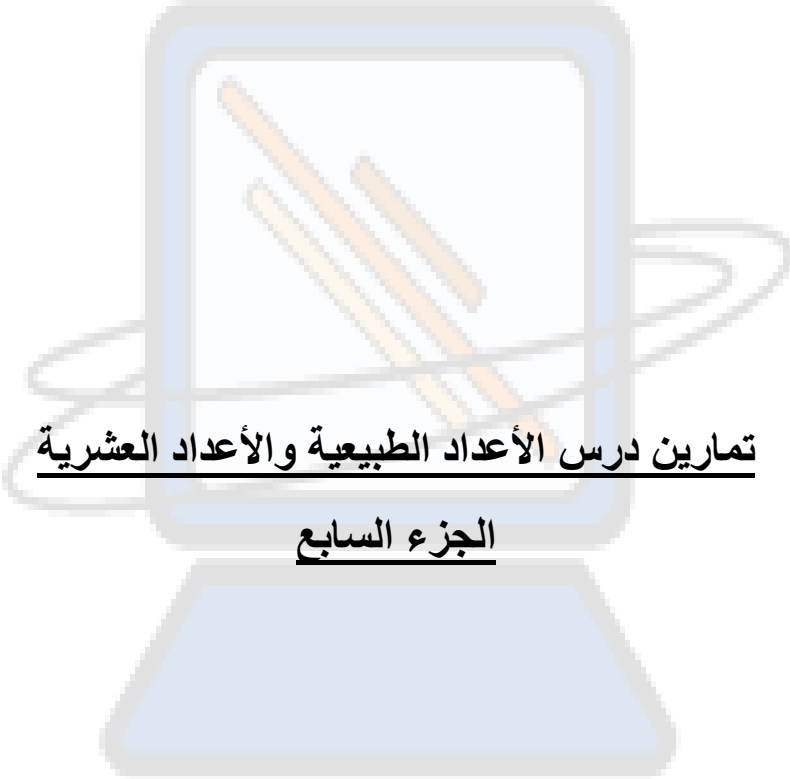




Latreche MIFA



تمارين درس الأعداد الطبيعية والأعداد العشرية

الجزء السابع

Latreche MIFA

(18) الضرب في 10، 100، 1000:التمرين 1:

أكمل ما يلي:

$3,45 \times 10 =$	$86,7 \times 10 =$	$3,4 \times 100 =$	$0,2 \times 1000 =$
$6,23 \times 10 =$	$7,9 \times 100 =$	$0,078 \times 100 =$	$5,9 \times 1000 =$
$0,09 \times 100 =$	$0,008 \times 1000 =$	$0,86 \times 100 =$	$0,21 \times 100 =$

(الحل)التمرين 2:

أكمل ما يلي:

$0,014 \times 1000 =$	$0,48 \times 1000 =$	$0,053 \times 100 =$	$0,3 \times 100 =$
$0,052 \times 1000 =$	$0,93 \times 1000 =$	$0,081 \times 100 =$	$0,032 \times 10 =$
$0,29 \times 1000 =$	$0,079 \times 10 =$	$9,7 \times 100 =$	$0,24 \times 1000 =$

(الحل)التمرين 3:

أكمل ما يلي:

$87,2 \times \dots = 872$	$1,504 \times \dots = 150,4$	$11,574 \times \dots = 1\ 157,4$
$12,3 \times \dots = 12\ 300$	$0,07 \times \dots = 70$	$4,45 \times \dots = 44,5$
$13,67 \times \dots = 13670$	$0,69 \times \dots = 69$	

(الحل)(19) القسمة على 10، 100، 1000:التمرين 1:

أكمل ما يلي:

$34,66 \div 100 =$	$6,4 \div 1000 =$	$5,19 \div 1000 =$	$977,97 \div 10 =$
$8,801 \div 10 =$	$95,574 \div 10 =$	$87,7 \div 100 =$	$1,111 \div 10 =$

(الحل)

التمرين 2:

أكمل ما يلي:

$0,9 \div 10 =$	$160,4 \div 10 =$	$14506,4 \div 100 =$
$52045,7 \div 100 =$	$4861,2 \div 1000 =$	$45902,6 \div 100 =$
$33013,5 \div 1000 =$	$5730,3 \div 100 =$	

(الحل)التمرين 3:

أكمل ما يلي:

$454,5 \div 100 =$	$453,6 \div 1000 =$	$278,62 \div 100 =$
$6394,4 \div 100 =$	$954,61 \div 100 =$	$517,86 \div 10 =$
$8040,7 \div 100 =$	$405,1 \div 100 =$	

(الحل)التمرين 4:

أكمل ما يلي:

$6503,3 \div 100 =$	$3037,2 \div 100 =$	$103,21 \div 100 =$
$700,3 \div 10 =$	$7017,6 \div 1000 =$	$3360,9 \div 100 =$
$685,7 \div 1000 =$	$811,69 \div 100 =$	

(الحل)التمرين 5:

أكمل ما يلي:

$788,36 \div \dots = 7,8836$	$605,59 \div \dots = 60,559$
$506,84 \div \dots = 5,0684$	$9614,8 \div \dots = 9,6148$
$8343,3 \div \dots = 83,433$	$489,9 \div \dots = 48,99$

(الحل)

التمرين 6:

أكمل ما يلي:

$697,54 \div \dots = 69,754$	$4360,7 \div \dots = 4,3607$
$82205,2 \div \dots = 82,2052$	$34664,2 \div \dots = 346,642$
$50733,3 \div \dots = 507,333$	$4698,1 \div \dots = 469,81$

(الحل)20) وحدات القياس المألوفة والأعداد العشرية:التمرين 1:

فيما يلي، اختر الإجابة الصحيحة:

$1,5 \text{ cm} = 15 \text{ dm} ; 150 \text{ mm} ; 15 \text{ mm}$
$5,4 \text{ km} = 54 \text{ hm} ; 540 \text{ m} ; 54 \text{ dam}$
$25,3 \text{ dm} = 253 \text{ cm} ; 253 \text{ mm} ; 253 \text{ m}$
$1,45 \text{ m} = 145 \text{ hm} ; 145 \text{ cm} ; 145 \text{ mm}$
$15,5 \text{ dm} = 0,155 \text{ m} ; 1,55 \text{ m} ; 1 \text{ 550 cm}$
$75 \text{ 000 cm} = 7,5 \text{ hm} ; 7,5 \text{ dam} ; 7,5 \text{ km}$
$9,425 \text{ km} = 942,5 \text{ hm} ; 94,25 \text{ m} ; 942,5 \text{ dam}$
$600 \text{ m} = 0,6 \text{ km} ; 0,6 \text{ hm} ; 0,6 \text{ dam}$

(الحل)

Latreche MIFA

التمرين 2:

فيما يلي، اختر الإجابة الصحيحة:

$150 \text{ dam} = 15 \text{ km} ; 1,5 \text{ km} ; 0,15 \text{ km}$
$682 \text{ dm} = 68,2 \text{ m} ; 6,82 \text{ m} ; 0,682 \text{ m}$
$750 \text{ mm} = 7,5 \text{ m} ; 75 \text{ m} ; 0,75 \text{ m}$
$4 \text{ 810 m} = 4,81 \text{ km} ; 48,1 \text{ km} ; 4,81 \text{ hm}$
$18,75 \text{ dam} = 187,5 \text{ m} ; 1,875 \text{ m} ; 1 \text{ 875 m}$
$60,5 \text{ hm} = 605 \text{ km} ; 6,05 \text{ km} ; 6,5 \text{ km}$
$29,7 \text{ cm} = 2,97 \text{ mm} ; 297 \text{ mm} ; 2 \text{ 970 mm}$
$7,632 \text{ km} = 763,2 \text{ dam} ; 763,2 \text{ hm} ; 763,2 \text{ m}$

(الحل)التمرين 3:

فيما يلي، اختر الإجابة الصحيحة:

أكبر مسافة هي:

150 m	50,1 hm	0,51 km
0,15 dm	1,05 dam	

أقصر مسافة هي:

24,8 cm	2,5 dm	5,48 m
0,54 m	250 mm	

طول القطعة في الصورة هو:



7,3 mm	37 mm	7,3 cm	3,7 cm
--------	-------	--------	--------

طول القطعة في الصورة هو:



0,26 m	260 mm	3,6 cm	0,26 dm
--------	--------	--------	---------

(الحل)

التمرين 4:

فيما يلي، اختر الإجابة الصحيحة:

$4\ 500\ m = 4,5\ hm ; 4,5\ dam ; 4,5\ km ; 4,5\ dm$
$3,5\ m = 350\ mm ; 35\ mm ; 35\ cm ; 350\ cm$
$6,2\ km = 62\ m ; 620\ m ; 6\ 200\ m ; 62\ 000\ m$
$825\ m = 0,0825\ km ; 0,825\ km ; 8,25\ km ; 82,5\ km$
$6,35\ dam = 63,5\ cm ; 0,635\ cm ; 635\ cm ; 6\ 350\ cm$
$825\ mm = 8,25\ dm ; 0,825\ dm ; 82,5\ dm ; 8\ 250\ dm$

(الحل)التمرين 5:

أكمل ما يلي:

$2,5\ g = \dots\ dg$	$500\ dg = \dots\ kg$	$150\ mg = \dots\ g$
$500\ g = \dots\ kg$	$7\ 500\ mg = \dots\ dag$	$2\ 500\ mg = \dots\ hg$
$250\ g = \dots\ hg$	$0,5\ hg = \dots\ g$	$250\ dag = \dots\ kg$
$7,5\ g = \dots\ mg$	$3,5\ kg = \dots\ g$	$3,5\ dag = \dots\ mg$
$1\ g = \dots\ dag$	$25\ hg = \dots\ kg$	$5\ dag = \dots\ kg$

(الحل)

Latreche MIFA

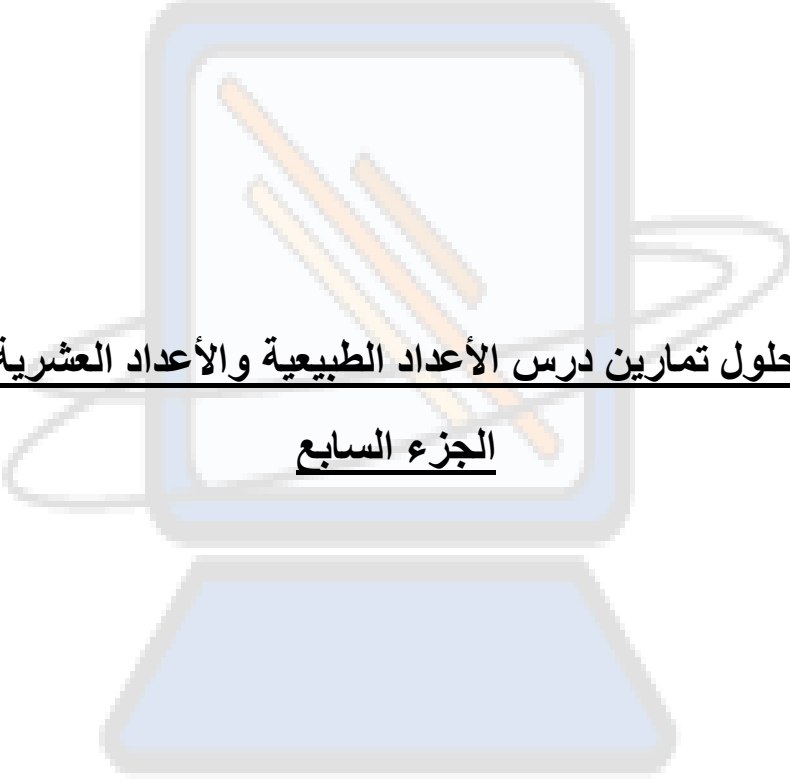
التمرين 6:

فيما يلي، اختر الإجابة الصحيحة:

$1,5 \text{ cg} = 15 \text{ dg} ; 150 \text{ mg} ; 15 \text{ mg}$
$5,4 \text{ kg} = 54 \text{ hg} ; 540 \text{ g} ; 54 \text{ dag}$
$25,3 \text{ dg} = 253 \text{ cg} ; 253 \text{ mg} ; 253 \text{ g}$
$1,45 \text{ g} = 145 \text{ hg} ; 145 \text{ cg} ; 145 \text{ mg}$
$15,5 \text{ dg} = 0,155 \text{ g} ; 1,55 \text{ g} ; 1\ 550 \text{ cg}$
$600 \text{ g} = 0,6 \text{ kg} ; 0,6 \text{ hg} ; 0,6 \text{ dag}$
$75\ 000 \text{ cg} = 7,5 \text{ hg} ; 7,5 \text{ dag} ; 7,5 \text{ kg}$
$9,425 \text{ kg} = 942,5 \text{ hg} ; 94,25 \text{ g} ; 942,5 \text{ dag}$

(الحل)

Latreche MIFA



حلول تمرين درس الأعداد الطبيعية والأعداد العشرية
الجزء السابع

Latreche MIFA

18) الضرب في 10، 100، 1000:حل التمرين 1:

$3,45 \times 10 = 34,5$	$86,7 \times 10 = 867$	$3,4 \times 100 = 340$
$0,2 \times 1000 = 200$	$6,23 \times 10 = 62,3$	$7,9 \times 100 = 790$
$0,078 \times 100 = 7,8$	$5,9 \times 1000 = 5900$	$0,09 \times 100 = 9$
$0,008 \times 1000 = 8$	$0,86 \times 100 = 86$	$0,21 \times 100 = 21$

(التمرين)

حل التمرين 2:

$0,014 \times 1000 = 14$	$0,48 \times 1000 = 480$	$0,053 \times 100 = 5,3$
$0,3 \times 100 = 30$	$0,052 \times 1000 = 52$	$0,93 \times 1000 = 930$
$0,081 \times 100 = 8,1$	$0,032 \times 10 = 0,32$	$0,29 \times 1000 = 290$
$0,079 \times 10 = 0,79$	$9,7 \times 100 = 970$	$0,24 \times 1000 = 240$

(التمرين)

حل التمرين 3:

$87,2 \times 10 = 872$	$1,504 \times 100 = 150,4$	$11,574 \times 100 = 1\ 157,4$
$12,3 \times 1\ 000 = 12\ 300$	$0,07 \times 1\ 000 = 70$	$4,45 \times 10 = 44,5$
$13,67 \times 1\ 000 = 13\ 670$	$0,69 \times 100 = 69$	

(التمرين)

19) القسمة على 10، 100، 1000:حل التمرين 1:

$34,66 \div 100 = 0,3466$	$6,4 \div 1000 = 0,0064$	$5,19 \div 1000 = 0,00519$
$977,97 \div 10 = 97,797$	$8,801 \div 10 = 0,8801$	$95,574 \div 10 = 9,5574$
$87,7 \div 100 = 0,877$	$1,111 \div 10 = 0,1111$	

(التمرين)

حل التمرين 2:

$0,9 \div 10 = 0,09$	$160,4 \div 10 = 16,04$
$14\ 506,4 \div 100 = 145,064$	$52\ 045,7 \div 100 = 520,457$
$4\ 861,2 \div 1000 = 4,8612$	$45\ 902,6 \div 100 = 459,026$
$33\ 013,5 \div 1000 = 33,0135$	$5\ 730,3 \div 100 = 57,303$

(التمرين)

حل التمرين 3:

$454,5 \div 100 = 4,545$	$453,6 \div 1\ 000 = 0,4536$
$278,62 \div 100 = 2,7862$	$6\ 394,4 \div 100 = 63,944$
$954,61 \div 100 = 9,5461$	$517,86 \div 10 = 51,786$
$8\ 040,7 \div 100 = 80,407$	$405,1 \div 100 = 4,051$

(التمرين)

حل التمرين 4:

$6\ 503,3 \div 100 = 65,033$	$3\ 037,2 \div 100 = 30,372$
$103,21 \div 100 = 1,0321$	$700,3 \div 10 = 70,03$
$7\ 017,6 \div 1\ 000 = 7,0176$	$3\ 360,9 \div 100 = 33,609$
$685,7 \div 1\ 000 = 0,6857$	$811,69 \div 100 = 8,1169$

(التمرين)

حل التمرين 5:

$788,36 \div 100 = 7,8836$	$605,59 \div 10 = 60,559$
$506,84 \div 100 = 5,0684$	$9\ 614,8 \div 1\ 000 = 9,6148$
$8\ 343,3 \div 100 = 83,433$	$489,9 \div 10 = 48,99$

(التمرين)

حل التمرين 6:

$697,54 \div 10 = 69,754$	$4\,360,7 \div 1\,000 = 4,3607$
$82\,205,2 \div 1\,000 = 82,2052$	$34\,664,2 \div 100 = 346,642$
$50\,733,3 \div 100 = 507,333$	$4\,698,1 \div 10 = 469,81$

(التمرين)

(20) وحدات القياس المألوفة والأعداد العشرية:حل التمرين 1:

$1,5\,cm = 15\,mm$	$15,5\,dm = 1,55\,m$
$5,4\,km = 54\,hm$	$75\,000\,cm = 7,5\,hm$
$25,3\,dm = 253\,cm$	$9,425\,km = 942,5\,dam$
$1,45\,m = 145\,cm$	$600\,m = 0,6\,km$

(التمرين)

حل التمرين 2:

$150\,dam = 1,5\,km$	$18,75\,dam = 187,5\,m$
$682\,dm = 68,2\,m$	$60,5\,hm = 6,05\,km$
$750\,mm = 0,75\,m$	$29,7\,cm = 297\,mm$
$4\,810\,m = 4,81\,km$	$7,632\,km = 763,2\,dam$

(التمرين)

Latreche MIFA

حل التمرين 3:أكبر مسافة هي: $50,1 \text{ hm}$.

150 m

50,1 hm

0,51 km

0,15 dm

1,05 dam

أقصر مسافة هي: $24,8 \text{ cm}$.

24,8 cm

2,5 dm

5,48 m

0,54 m

250 mm

طول القطعة في الصورة هو: $7,3 \text{ cm}$.طول القطعة في الصورة هو: $0,26 \text{ dm}$.

(التمرين)

حل التمرين 4:

$4\ 500 \text{ m} = 4,5 \text{ km}$	$825 \text{ m} = 0,825 \text{ km}$
$3,5 \text{ m} = 350 \text{ cm}$	$6,35 \text{ dam} = 6\ 350 \text{ cm}$
$6,2 \text{ km} = 6\ 200 \text{ m}$	$825 \text{ mm} = 8,25 \text{ dm}$

(التمرين)


حل التمرين 5:

$2,5 \text{ g} = 25 \text{ dg}$	$500 \text{ dg} = 0,05 \text{ kg}$	$150 \text{ mg} = 0,15 \text{ g}$
$500 \text{ g} = 0,5 \text{ kg}$	$7\ 500 \text{ mg} = 0,75 \text{ dag}$	$2\ 500 \text{ mg} = 0,025 \text{ hg}$
$250 \text{ g} = 2,5 \text{ hg}$	$0,5 \text{ hg} = 50 \text{ g}$	$250 \text{ dag} = 2,5 \text{ kg}$
$7,5 \text{ g} = 7\ 500 \text{ mg}$	$3,5 \text{ kg} = 3\ 500 \text{ g}$	$3,5 \text{ dag} = 35\ 000 \text{ mg}$
$1 \text{ g} = 0,1 \text{ dag}$	$25 \text{ hg} = 2,5 \text{ kg}$	$5 \text{ dag} = 0,05 \text{ kg}$

(التمرين)

حل التمرين 6:

$1,5 \text{ cg} = 15 \text{ mg}$	$15,5 \text{ dg} = 1,55 \text{ g}$
$5,4 \text{ kg} = 54 \text{ hg}$	$75 \text{ 000 cg} = 7,5 \text{ hg}$
$25,3 \text{ dg} = 253 \text{ cg}$	$9,425 \text{ kg} = 942,5 \text{ dag}$
$1,45 \text{ g} = 145 \text{ cg}$	$600 \text{ g} = 0,6 \text{ kg}$

(التمرين)

Latreche MIFA